

**ΘΕΜΑ Α**

Στις ερωτήσεις **A1 – A4** να γράψετε στο τετράδιό σας τον αριθμό της ερώτησης και δίπλα το γράμμα που αντιστοιχεί στην επιλογή σας, η οποία συμπληρώνει σωστά την ημιτελή πρόταση.

**A1.** Ένα σύστημα ελατηρίου – σώματος εκτελεί εξαναγκασμένη ταλάντωση. Η συχνότητα ταλάντωσης του συστήματος θα μεταβληθεί, εάν μεταβάλλουμε

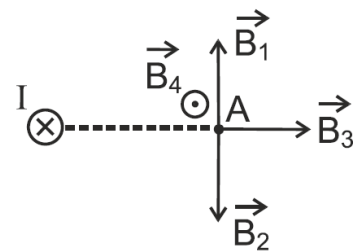
- α) τη σταθερά απόσβεσης  $b$ .
- β) τη συχνότητα της εξωτερικής περιοδικής δύναμης.
- γ) τη σταθερά του ελατηρίου.
- δ) τη μάζα του σώματος.

**A2.** Τα ηλεκτρομαγνητικά κύματα δημιουργούνται από

- α) ένα σταθερό ηλεκτρικό πεδίο ή σταθερό μαγνητικό πεδίο.
- β) ακίνητα φορτία.
- γ) φορτία που κινούνται με σταθερή ταχύτητα.
- δ) φορτία που επιταχύνονται.

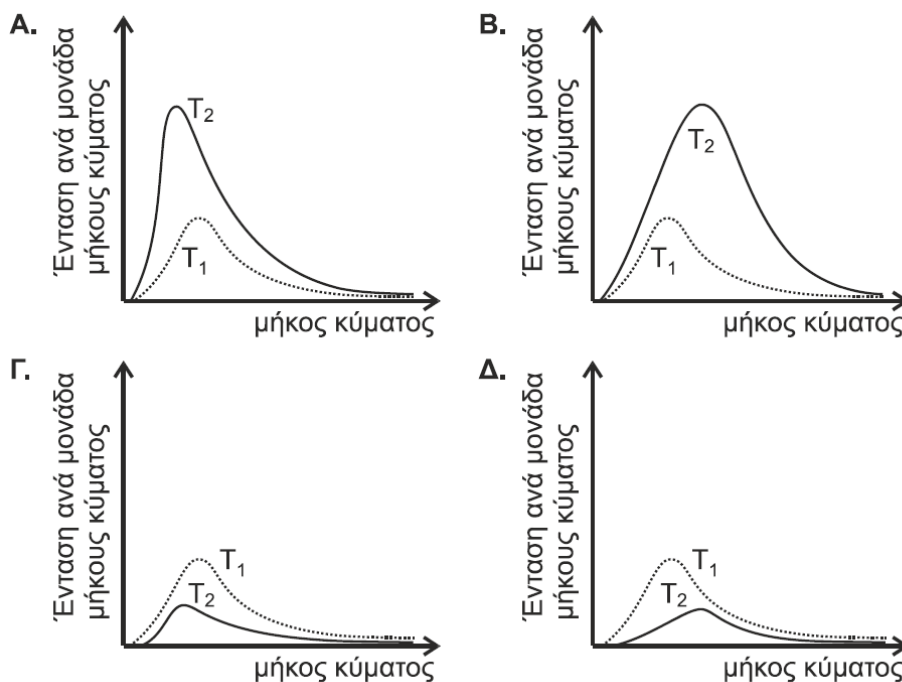
**A3.** Ευθύγραμμος ρευματοφόρος αγωγός μεγάλου μήκους είναι κάθετος στο επίπεδο της σελίδας και διαρρέεται από συνεχές ηλεκτρικό ρεύμα έντασης  $I$  με φορά από τον αναγνώστη προς τη σελίδα.

Στο σημείο  $A$  του σχήματος, η ένταση του μαγνητικού πεδίου που δημιουργείται από τον αγωγό αυτό παριστάνεται με το διάνυσμα:



- α)  $\vec{B}_1$
- β)  $\vec{B}_2$
- γ)  $\vec{B}_3$
- δ)  $\vec{B}_4$

**A4.** Ποια από τα παρακάτω γραφήματα απεικονίζει τα φάσματα εκπομπής δύο μελανών σωμάτων, με απόλυτες θερμοκρασίες  $T_1$  και  $T_2$  με  $T_2 > T_1$ ;



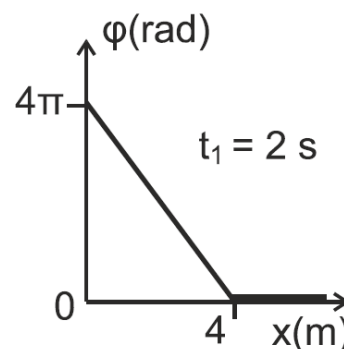
- α) Α
- β) Β
- γ) Γ
- δ) Δ

- A5.** Να χαρακτηρίσετε τις προτάσεις που ακολουθούν, γράφοντας στο τετράδιό σας, δίπλα στο γράμμα που αντιστοιχεί σε κάθε πρόταση, τη λέξη **Σωστό**, αν η πρόταση είναι σωστή, ή τη λέξη **Λάθος**, αν η πρόταση είναι λανθασμένη.
- α)** Στην πλαστική κρούση διατηρείται η μηχανική ενέργεια του συστήματος των σωμάτων που συγκρούονται.
- β)** Καθώς τα αμορτισέρ ενός αυτοκινήτου παλιώνουν και φθείρονται, η σταθερά απόσβεσης  $b$  ελαττώνεται και όταν το αυτοκίνητο περνά από ένα εξόγκωμα του δρόμου, η ταλάντωση του αυτοκινήτου διαρκεί περισσότερο.
- γ)** Κατά τη συμβολή δύο κυμάτων, από σύγχρονες πηγές, που διαδίδονται στην επιφάνεια υγρού, τα σημεία που ταλαντώνονται με μέγιστο πλάτος, έχουν αποστάσεις  $r_1$  και  $r_2$  από τις πηγές, που διαφέρουν μεταξύ τους κατά ακέραιο πολλαπλάσιο του μήκους κύματος  $\lambda$ .
- δ)** Ο νόμος του Ampere ισχύει και για ρεύματα μεταβλητής έντασης.
- ε)** Ένα αμπερόμετρο, συνδεδεμένο σε κύκλωμα εναλλασσόμενου ρεύματος, δείχνει το πλάτος  $I$  του εναλλασσόμενου ρεύματος.

### ΘΕΜΑ Β

**B1.** Το άκρο  $O$  γραμμικού ομογενούς, ελαστικού μέσου που εκτείνεται κατά τη διεύθυνση του ημιάξονα  $Ox$  αρχίζει, τη χρονική στιγμή  $t = 0$ , να ταλαντώνεται σύμφωνα με την εξίσωση  $y = A\eta\omega t$ , και δημιουργείται εγκάρσιο αρμονικό κύμα.

Η γραφική παράσταση της φάσης της ταλάντωσης των σημείων του μέσου, τη χρονική στιγμή  $t_1 = 2$  s, σε συνάρτηση με τη θέση  $x$ , φαίνεται στο διπλανό διάγραμμα.



Τη χρονική στιγμή  $t_2 = 2,5$  s τα σημεία της χορδής που βρίσκονται σε ακραία θέση της τροχιάς τους είναι:

- i.** 5                                      **ii.** 4                                      **iii.** 10

- α)** Να επιλέξετε τη σωστή απάντηση.  
**β)** Να δικαιολογήσετε την επιλογή σας.

**B2.** Σε συσκευή μελέτης του φωτοηλεκτρικού φαινομένου, μονοχρωματική ακτινοβολία προσπίπτει στην επιφάνεια της καθόδου. Η συχνότητα κατωφλίου, για το μέταλλο της καθόδου, είναι ίση με  $f_1$ .

Αν η συχνότητα της προσπίπτουσας ακτινοβολίας είναι  $f_2 = 3f_1$ , τότε τα ηλεκτρόνια εξερχόμενα από την κάθοδο μόλις που καταφέρνουν να φτάσουν στην άνοδο. Η τάση αποκοπής  $V_0$  είναι ίση με

- i.**  $\frac{hf_1}{e}$                                       **ii.**  $\frac{2hf_1}{e}$                                       **iii.**  $\frac{3hf_1}{e}$

- α)** Να επιλέξετε τη σωστή απάντηση.  
**β)** Να δικαιολογήσετε την επιλογή σας.

**B3.** Στο φασματογράφο μάζας (Bainbridge) του διπλανού σχήματος, λεπτή δέσμη ιόντων ενός χημικού στοιχείου, που αποτελείται από δύο ισότοπα, διέρχεται από φίλτρο ταχυτήτων, όπου συνυπάρχουν ομογενές ηλεκτρικό πεδίο έντασης  $\vec{E}$  και ομογενές μαγνητικό πεδίο έντασης  $\vec{B}_1$  με φορά από τον αναγνώστη προς τη σελίδα, κάθετα μεταξύ τους.

Μερικά από τα ιόντα δεν εκτρέπονται και συνεχίζουν ανεπηρέαστα την πορεία τους μέσα στο φίλτρο ταχυτήτων.

α) Το μέτρο της ταχύτητας των ιόντων που δεν εκτρέπονται είναι ίσο με

i.  $v = \frac{B_1}{E}$

ii.  $v = \frac{E}{B_1}$

iii.  $v = \frac{E}{2B_1}$

Να επιλέξετε τη σωστή απάντηση και να την αιτιολογήσετε.

Στη συνέχεια τα ιόντα αυτά εισέρχονται σε περιοχή ομογενούς μαγνητικού πεδίου έντασης  $\vec{B}_2$  με φορά από τη σελίδα προς τον αναγνώστη προς τον αναγνώστη. Στο πεδίο αυτό διαγράφουν ημικυκλικές τροχιές και πέφτουν σε φωτογραφική πλάκα, αφήνοντας σε αυτή δύο ίχνη που απέχουν μεταξύ τους απόσταση  $d$ .

β) Η διαφορά μάζας των ισοτόπων του στοιχείου που αποτελούν τη δέσμη είναι ίση με

i.  $\Delta m = \frac{dB_1B_2q}{2E}$

ii.  $\Delta m = \frac{2dB_1B_2q}{E}$

iii.  $\Delta m = \frac{dB_1B_2q}{E}$

Να επιλέξετε τη σωστή απάντηση και να την αιτιολογήσετε.

### ΘΕΜΑ Γ

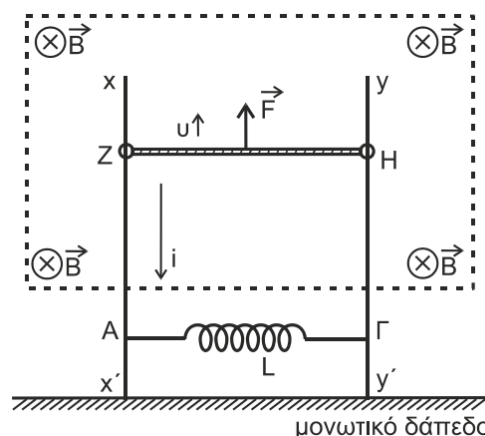
Στη διάταξη του διπλανού σχήματος οι κατακόρυφοι μεταλλικοί αγωγοί  $xx'$  και  $yy'$ , αμελητέας ωμικής αντίστασης είναι στερεωμένοι σε οριζόντιο μονωτικό δάπεδο.

Ανάμεσα στα σημεία Α και Γ έχει συνδεθεί ιδανικό πηνίο με συντελεστή αυτεπαγωγής. Μεταλλική ράβδος ΖΗ μήκους μάζας και ωμικής αντίστασης έχει τα άκρα της πάνω στους κατακόρυφους αγωγούς, είναι κάθετη σε αυτούς και μπορεί να κινείται χωρίς τριβές.

Στο μέσον της ράβδου και κάθετα σε αυτή ασκείται κατάλληλη δύναμη με αποτέλεσμα η ράβδος ΖΗ να κινείται προς τα πάνω παραμένοντας συνεχώς οριζόντια.

Στην περιοχή που κινείται η ράβδος ΖΗ υπάρχει οριζόντιο ομογενές μαγνητικό πεδίο έντασης και μέτρου του οποίου οι δυναμικές γραμμές έχουν φορά από τον αναγνώστη προς τη σελίδα.

Το πηνίο βρίσκεται έξω από το ομογενές μαγνητικό πεδίο στο οποίο κινείται ο αγωγός ΖΗ. Λόγω της κίνησης της ράβδου ο βρόχος ΖΑΓΗΖ διαρρέεται από ρεύμα, του οποίου η ένταση δίνεται από τη σχέση όπου  $t$  ο χρόνος, με φορά όπως αυτή που φαίνεται στο σχήμα.



Γ1. Να σχεδιάσετε τη γραφική παράσταση της έντασης του ρεύματος σε συνάρτηση με το χρόνο  $i - t$  σε ορθογώνιο σύστημα αξόνων και να υπολογίσετε το ρυθμό μεταβολής  $\frac{\Delta i}{\Delta t}$  της έντασης του ρεύματος.

Να υπολογίσετε το φορτίο που διέρχεται από μία διατομή του κυκλώματος στο χρονικό διάστημα από  $t = 0$  s έως  $t = 2$  s.

Γ2. Να σχεδιάσετε την πολικότητα της ΗΕΔ από αυτεπαγωγή στο πηνίο και να υπολογίσετε την απόλυτη τιμή αυτής.

Γ3. Να υπολογίσετε το μέτρο της ταχύτητας της ράβδου ΖΗ σε συνάρτηση με τον χρόνο  $v - t$ .

Γ4. Τη χρονική στιγμή  $t_1 = 2$  s να υπολογίσετε:

α) Το μέτρο της δύναμης  $\vec{F}$

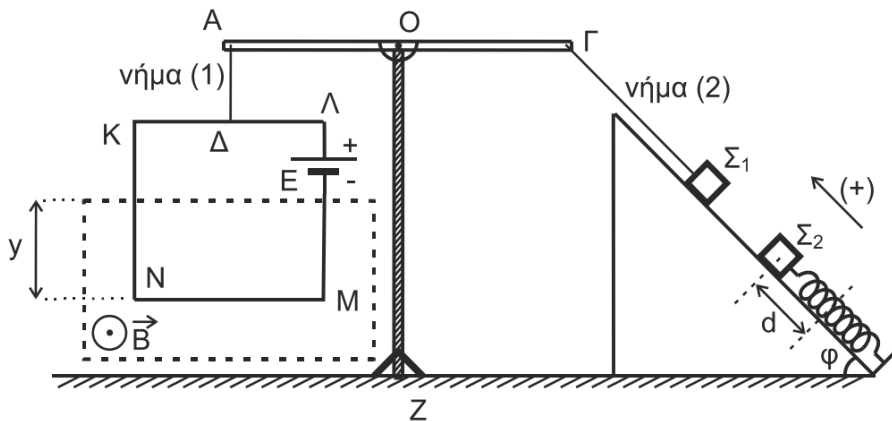
β) Τον ρυθμό με τον οποίο προσφέρεται ενέργεια από τη δύναμη  $\vec{F}$  στο κύκλωμα.

γ) Τον ρυθμό με τον οποίο αποθηκεύεται ενέργεια στο μαγνητικό πεδίο του πηνίου.

Να θεωρήσετε το μέτρο της επιτάχυνσης της βαρύτητας:  $g = 10 \text{ m/s}^2$ .

### ΘΕΜΑ

Στη διάταξη του παρακάτω σχήματος φαίνεται ένας ζυγός που μπορεί να χρησιμοποιηθεί για τη μέτρηση της έντασης ενός ομογενούς μαγνητικού πεδίου.



Το κατακόρυφο στέλεχος OZ του ζυγού είναι στηριγμένο σε οριζόντιο δάπεδο. Στην κορυφή του έχει αρθρωθεί οριζόντια ομογενής ράβδος ΑΓ στο μέσον της οποίας Ο. Από το άκρο Α της ράβδου ΑΓ αναρτάται με τη βοήθεια αβαρούς και μη εκτατού κατακόρυφου μονωτικού νήματος (1), το οποίο συνδέεται στο μέσον Δ της πλευράς ΚΛ, ένα τετράγωνο συρμάτινο και αβαρές πλαίσιο ΚΛΜΝ, πλευράς  $a = 0,8 \text{ m}$  και συνολικής ωμικής αντίστασης  $R = 2 \Omega$ . Στο πλαίσιο υπάρχει πηγή ηλεκτρεγερτικής δύναμης (ΗΕΔ)  $E = 30 \text{ V}$  αμελητέας εσωτερικής αντίστασης και αμελητέου βάρους.

Το πλαίσιο ισορροπεί σε κατακόρυφο επίπεδο και βρίσκεται μερικώς μέσα σε οριζόντιο ομογενές μαγνητικό πεδίο έντασης  $\vec{B}$  του οποίου οι δυναμικές γραμμές είναι κάθετες στο επίπεδο του πλαισίου με φορά από τη σελίδα προς τον αναγνώστη.

Με αβαρές και μη εκτατό νήμα (2) έχουμε συνδέσει το άκρο Γ της ράβδου με σώμα  $\Sigma_1$  μάζας  $m_1 = 3 \text{ kg}$  το οποίο ισορροπεί σε λείο κεκλιμένο επίπεδο γωνίας κλίσεως  $\phi = 37^\circ$ . Η διεύθυνση του νήματος είναι παράλληλη προς το κεκλιμένο επίπεδο.

Στο κεκλιμένο επίπεδο ισορροπεί και σώμα  $\Sigma_2$  μάζας  $m_2 = 1 \text{ kg}$ , δεμένο στο ελεύθερο άκρο ιδανικού ελατηρίου σταθεράς  $k = 100 \text{ N/m}$  του οποίου ο άξονας είναι παράλληλος στο κεκλιμένο επίπεδο. Το άλλο άκρο του ελατηρίου είναι στερεωμένο ακλόνητα στη βάση του κεκλιμένου επιπέδου. Όλα τα σώματα της διάταξης ισορροπούν στο ίδιο κατακόρυφο επίπεδο.

Δ1. Να υπολογίσετε το μέτρο της δύναμης που ασκεί το νήμα (1) στο άκρο Α της ράβδου.

Δ2. Να υπολογίσετε το μέτρο Β της έντασης του μαγνητικού πεδίου.

Μετακινούμε το σώμα  $\Sigma_2$  προς τη βάση του κεκλιμένου επιπέδου κατά  $d = \frac{9\pi}{100} \text{ m}$  και το συγκρατούμε σε αυτή τη θέση. Κόβουμε το νήμα (2), και την ίδια στιγμή αφήνουμε ελεύθερο να κινηθεί προς τα πάνω το σώμα  $\Sigma_2$ . Το σώμα  $\Sigma_2$  εκτελώντας απλή αρμονική ταλάντωση με  $D=k$  περνώντας για πρώτη φορά από τη θέση ισορροπίας του συγκρούεται μετωπικά και πλαστικά με το σώμα  $\Sigma_1$ .

- Δ3.** Να αποδείξετε ότι το συσσωμάτωμα αμέσως μετά την πλαστική κρούση ακινητοποιείται στιγμιαία.
- Δ4.** Αν το συσσωμάτωμα αμέσως μετά την πλαστική κρούση εκτελεί απλή αρμονική ταλάντωση με  $D=k$  να γράψετε τη χρονική εξίσωση της απομάκρυνσης του συσσωματώματος από τη θέση ισορροπίας του. Να θεωρήσετε ως χρονική στιγμή  $t_0 = 0$  τη στιγμή της κρούσης και θετική φορά, τη φορά από τη βάση του κεκλιμένου επιπέδου προς την κορυφή του.
- Δ5.** Να γράψετε τη σχέση της δύναμης του ελατηρίου σε συνάρτηση με την απομάκρυνση  $F_{ελ} - x$  κατά τη διάρκεια ταλάντωσης του συσσωματώματος και να κάνετε τη γραφική παράσταση σε βαθμονομημένους άξονες.

Να θεωρήσετε ότι:

- η κρούση είναι ακαριαία
- η αντίσταση του αέρα θεωρείται αμελητέα για όλα τα σώματα
- κατά την κρούση, δεν έχουμε απώλεια μάζας
- το σχήμα δεν είναι υπό κλίμακα
- το μέτρο της επιτάχυνσης της βαρύτητας είναι  $g = 10 \text{ m/s}^2$ .